

Birla Public School Ganganagar

(A UNIT OF BIRLA EDUCATION TRUST PILANI)

Session 2023-24

Winter Vacations Task

Class II

My name is _____

My section is _____

My roll no. is _____





BIRLA PUBLIC SCHOOL GANGANAGAR

(A UNIT OF BIRLA EDUCATION TRUST PILANI)



CBSE AFFILIATION NO. 1730974

Session 2023-24

Winter Holiday Home-work

Grade - II

“Education is the passport to the future, for tomorrow belongs to those who prepare for it today.”

Dear Children,

We are sure that all of you would have made plans for a fun filled winter vacation. We wish that you enjoy your break with your family and friends. Freedom brings more responsibility, keeping this in mind, we have planned most of the activities for you to keep you engaged positively and your energies well directed.

The Holiday Homework has been especially designed to strengthen the concepts taken up in on-going themes and to ensure the maximum participation in the child's developmental plan that would help to build senses, enrich vocabulary, enhance creativity and thinking skills.

Here are some ways by which you can make your holidays fun and learning at the same time:

- ❖ Go for a walk with your family, talk about things you see around.
- ❖ Be an eco-friend: Plant at least one plant and take care of it during the holidays. Try to visit a nursery and observe the variety of plants you see there.
- ❖ Play outdoor games: Computer games are good they sharpen your intellect but what about the rest of your body. You need some exercise, don't you? Go cycling, play badminton, cricket, etc. anything which will make you fit.
- ❖ Care and Concern: Look after your grandparents, parent, younger brother and sisters. Help parents in small household chores like dusting of the house, cleaning wardrobes and watering the plants.
- ❖ Make these a part of your personality.
- ❖ Converse in English as much as possible.
- ❖ Improve your handwriting. Practice handwriting daily (one page)
- ❖ Read extensively to enhance your communication skills and list out the titles you read during holidays.

GUIDELINES FOR PARENT:

- ✓ Holiday homework should be done in these worksheets.
- ✓ Holiday homework should be done under parental guidance and not by parents.
- ✓ Originality of work will be appreciated.
- ✓ For colouring, use only plastic crayons.
- ✓ Encourage your child to converse in English.
- ✓ Please train your child to become independent in his/her daily chores.
- ✓ Encourage your ward to read and write his/her full name and date on each Page/worksheet.

Have an exciting vacation!

Regards,



Happy & Winter

HAPPY HOLIDAYS

Hindi worksheet – 1

अपठित गद्यांश

(क) पेड़ हमारे अच्छे मित्र हैं। वे हमें छाया, फल और फूल देते हैं। वे हवा को शुद्ध करते हैं और बारिश कराते हैं। पक्षी पेड़ों में रहना पसंद करते हैं। वे पेड़ों पर अपना घोंसला बनाते हैं और अपने बच्चों को पाला करते हैं। पक्षी पेड़ों के फल, बीज और कीड़े खाते हैं। वे पेड़ों की रक्षा करते हैं और उन्हें कीड़ों से बचाते हैं।

प्रश्न

1. पक्षी पेड़ों में क्या करना पसंद करते हैं?
2. पेड़ हमें क्या देते हैं?
3. पक्षी पेड़ों की रक्षा कैसे करते हैं?
4. पेड़ हमारे लिए क्यों महत्वपूर्ण हैं?
5. पक्षी और पेड़ों में क्या संबंध है?

(ख) मेरा देश भारत है। भारत एक बहुत बड़ा देश है। भारत में कई तरह के लोग रहते हैं। वे सभी अलग-अलग धर्मों और संस्कृतियों को मानते हैं। भारत एक बहुत ही सुंदर देश है। यहाँ बहुत सारे ऐतिहासिक स्थान और प्राकृतिक सौंदर्य हैं। मुझे अपने देश से बहुत प्यार है। मेरे देश का झंडा तिरंगा है। इसमें तीन रंग हैं, केसरिया, सफेद और हरा। केसरिया रंग बलिदान का प्रतीक है। सफेद रंग शांति का प्रतीक है। हरा रंग प्रगति का प्रतीक है। मुझे अपने देश का झंडा बहुत पसंद है।

1. मेरा देश कौन सा है?
2. भारत में क्या-क्या है?
3. मैं अपने देश को क्यों प्यार करता हूँ?
4. अपने देश के लिए हमें क्या करना चाहिए?
5. देशभक्ति क्या है?
6. मेरे देश का झंडा कैसा दिखता है?
7. मेरे देश के झंडे में कौन-कौन से रंग हैं?
8. मेरे देश के झंडे के रंगों का क्या अर्थ है?
9. हमें अपने देश के झंडे का सम्मान क्यों करना चाहिए?
10. हमें अपने देश के झंडे के लिए क्या करना चाहिए?

Note- Write your answers on any creative page.

Hindi worksheet – 2

विशेषण

पढ़ो-

अच्छ बालक । मीठा आम । खट्टे अंगूर । काला घोड़ा ।

उपर्युक्त शब्दों में रेखांकित शब्द विशेषण हैं । विशेषण उसे कहते हैं जो संज्ञा या सर्वनाम की विशेषता बताता है ।

विशेषण और संज्ञा अलग करें । एक उदाहरण किया गया है –

शब्द	विशेषण	संज्ञा
हरे पत्ते	हरे	पत्ते.
१. मधुर आवाज़	-----	-----
२. कठिन प्रश्न	-----	-----
३. लाल गुलाब	-----	-----
४. सुंदर लड़की	-----	-----
५. चतुर लड़का	-----	-----
६. सूखी डाल	-----	-----
७. सूखे पत्ते	-----	-----
८. हरी घास	-----	-----
९. अच्छ बच्चा	-----	-----
१०. शीतल जल	-----	-----
११. घना जंगल	-----	-----
१२. काली कोयल	-----	-----
१३. मीठा शरबत	-----	-----
१४. ऊँचे वृक्ष	-----	-----
१५. मोटा भालू	-----	-----
१६. हरा-भरा जंगल	-----	-----

Hindi worksheet – 3

(क) सही क्रिया भरिए ।

1. आपसे ————— मुझे बहुत खुशी हुई। (मिलना)
2. नदी पर बाँध ————— बिजली पैदा की जाती है। (बनाना)
3. सैनिक ने आगे ————— शत्रु को ललकारा। (बढ़ना)
4. उसने उदाहरण ————— बच्चों को पाठ समझाया। (देना)
5. सोना महल के तहखाने में ————— रखा गया था। (छिपाना)
6. सैनिकों ने योजना ————— आक्रमण किया। (बनाना)
7. बुढ़िया गाँव के बाहर झोंपड़ी ————— रहने लगी। (मिलना)
8. नौकर गुंडे से ————— पीछे हट गया। (डरना)
9. शेरनी बच्चों को झाड़ियों में ————— शिकार पर गई। (छोड़ना)
10. राम ने बाज़ार से वापस ————— खाना खाया। (आना)
11. बच्चे दादी से कहानी ————— सो गए। (सुनना)
12. बचपन के मित्रों से ————— बहुत आनंद आया। (मिलना)

Hindi worksheet – 3

क्रिया

खाली स्थानों में क्रिया का सही रूप लिखिए ।

Complete the sentences with correct form of Verb.

उदाहरण - अध्यापक कक्षा मेंरहे हैं । (पढ़ना)

अध्यापक कक्षा में पढ़ा रहे हैं ।

1. मैं क्रिकेट हूँ । (खेलना)
2. मुझे एक पेंसिल । (चाहना)
3. अध्यापक कुरसी पर है । (बैठना)
4. पक्षी हैं । (चहचहाना)
5. किसान हल रहा है । (चलाना)
6. उसने खाना नहीं । (खाना)
7. बिल्ली दूध गई । (पीना)
8. सोनम पाठशाला है । (जाना)
9. मदारी ने खेल । (दिखाना)
10. बकरी घास है । (खाना)

Hindi worksheet – 4

विलोम शब्द - Opposites Worksheet

दिए गए डब्बे में से चुनकर सही विलोम शब्द लिखें

रात	गरीब	गंदा	बुरा	उदास
ठंडा	सफ़ेद	पतला	नीचे	नीचा

गरम	X	<input type="text"/>
ऊपर	X	<input type="text"/>
काला	X	<input type="text"/>
दिन	X	<input type="text"/>
साफ़	X	<input type="text"/>
अच्छा	X	<input type="text"/>
मोटा	X	<input type="text"/>
ऊँचा	X	<input type="text"/>
अमीर	X	<input type="text"/>
खुश	X	<input type="text"/>

Hindi worksheet – 5

1. रंगीन शब्दों के विलोम से वाक्य पूरे करो।

सस्ते	निर्धन	हार
बुरा	कोमल	

क) पत्थर **कटोर** होता है लेकिन फूल _____।

ख) हमें हमेशा दूसरों का **भला** करना चाहिए _____ नहीं।

ग) चाँदी के दाम **महँगे** हो गए हैं पर सोने के दाम _____।

घ) कृष्ण **धनी** थे पर इनके मित्र सुदामा _____ थे।

ङ) क्रिकेट के मैच में भारत की टीम **जीत** गई और विपक्षी टीम _____ गई।

2. सही जोड़े बनाइए।

अपना	निंदा
प्रशंसा	सरल
आय	उजाला
कठिन	पराया
अँधेरा	व्यय
उदय	अज्ञान
स्वर्ग	कपूत
ज्ञान	रुकना
सपूत	अस्त
चलना	नरक

Hindi worksheet – 6

सर्वनाम

"संज्ञा के स्थान पर प्रयोग होने वाले शब्द सर्वनाम कहलाते हैं।"

जैसे - मैं, हम, तुम, वह आदि।

खाली स्थान में उचित सर्वनाम शब्द लिखिए।

- वहां बैठा है। (कौन / किसका)
-खाना बनाना आता है। (मुझे / मेरा)
- ये..... घर है। (मुझे / मेरा)
-नाम क्या है। (तुम्हें / आपका)
- मुझे खाने के लिए चाहिए (तुम / कुछ)
-कौन आ रहा है। (किसका / वह)
- सीतापुत्री थी? (उन्हें / किसकी)

Hindi worksheet – 7

लिंग (gender)

नीचे दिए गए वाक्यों में कोष्ठक में से सही शब्द चुनकर लिखिए।

Write the sentences given below choosing the correct word from the brackets.

1. _____ पेड़ के ऊपर कूद रहा है। (बन्दर / बंदरिया)
2. _____ पेड़ के नीचे बैठी है। (बन्दर / बंदरिया)
3. _____ किताब पढ़ रही है। (छात्र / छात्रा)
4. _____ रंभा रही है। (बैल / गाय)
5. _____ पढ़ा रहे हैं। (शिक्षक / शिक्षिका)
6. _____ झाड़ू लगा रहा है। (नौकरानी / नौकर)

Hindi worksheet – 7

संज्ञा

चित्र को ध्यान से देखकर खाली स्थान भरो।

(बकरी बादल आम पक्षी बेंच खिड़कियाँ)




- आकाश में तीन..... उड़ रहे हैं।
- चित्र मेंका एक पेड़ है।
- पेड़ के पास एक..... रखी है।
- सूरज..... के पीछे छिप गया है।
- घर में तीन नीले रंग की..... है।
- चित्र में..... घास खा रही है।

Hindi worksheet – 4


सुलेख व् अनुछेद लेखन

अच्छे सुलेख में निम्नलिखित शब्दों पे अनुछेद लिखिए


1. पेड़ – पौधे
2. जल
3. पर्यावरण



BIRLA PUBLIC SCHOOL GANGANAGAR



BIRLA PUBLIC SCHOOL GANGANAGAR






BIRLA PUBLIC SCHOOL GANGANAGAR

EVS worksheet – 1

Tick the correct answer

- a) Earth is round /flat in shape.
- b) A plain /desert is a very dry and sandy area.
- c) Air/land surrounds the earth.
- d) Water in lakes/oceans is salty.

Find out and name six of each kind

Man Made Things	Water Bodies	Landforms
		

1. _____

1. _____

1. _____

2. _____

2. _____

2. _____

3. _____

3. _____

3. _____

4. _____

4. _____

4. _____

5. _____

5. _____

5. _____

6. _____

6. _____

6. _____

EVS worksheet – 2

Circle the names of landforms in the given box.

M	O	U	N	T	A	I	N	S	X
A	B	X	Z	V	A	L	L	E	Y
D	R	S	A	M	K	B	C	V	P
X	B	H	I	L	L	S	Q	N	L
Z	O	N	T	P	R	D	H	T	A
P	L	A	T	E	A	U	J	L	I
A	V	K	W	X	F	I	Q	S	N

List the names of living and non -living things from the given picture.




Living things

Non – Living things

EVS worksheet – 4

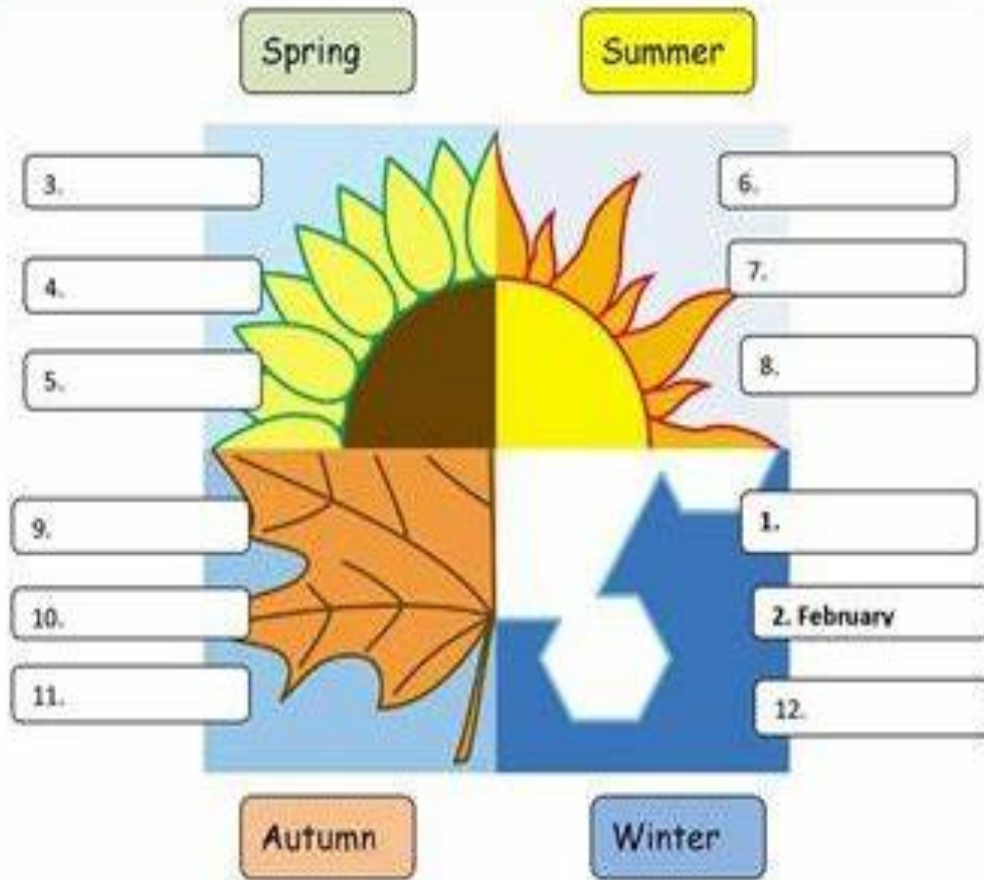
Complete the crossword puzzle with the help of given clues.



Clues Across		Clues Down	
4	Fixes the electrical wires, lights and fans	1	Teaches
8	Protects our country from enemies	2	Fits the water tank, pipes and taps
9	Paints the walls and ceiling	3	Makes the plan of a house
10	Takes care of patients admitted in hospital	5	Mends our shoes
7	Brings our letters home	6	Treats us when we are sick

EVS worksheet – 5

Write the correct month's name according seasons



Answer the following questions

1. When is your birthday? _____
2. Which is your favourite season? _____
3. In which month your new session of school begins? _____
4. Which holiday do we celebrate in December? _____
5. Which is the coldest and hottest season in the year? _____
6. In which season do you go to the beach? _____

EVS worksheet – 6

Time for creativity

Students have to make one model or project on any of the given topics

1. Water Cycle
2. Seed germination
3. Parts of plants
4. Clock
5. Model of sources of water
6. Different Seasons

For Example



Subject: Mathematics

Worksheet-1

Q1. Add the following numbers.

$$\begin{array}{r} 1) \quad \quad 1 \\ \quad 327 \\ + \quad 145 \\ \hline \quad 472 \\ \hline \end{array}$$

$$\begin{array}{r} 2) \quad \quad 428 \\ + \quad 134 \\ \hline \\ \hline \end{array}$$

$$\begin{array}{r} 3) \quad \quad 505 \\ + \quad 165 \\ \hline \\ \hline \end{array}$$

$$\begin{array}{r} 4) \quad \quad 356 \\ + \quad 129 \\ \hline \\ \hline \end{array}$$

$$\begin{array}{r} 5) \quad \quad 427 \\ + \quad 344 \\ \hline \\ \hline \end{array}$$

$$\begin{array}{r} 6) \quad \quad 308 \\ + \quad 126 \\ \hline \\ \hline \end{array}$$

$$\begin{array}{r} 7) \quad \quad 625 \\ + \quad 133 \\ \hline \\ \hline \end{array}$$

$$\begin{array}{r} 8) \quad \quad 357 \\ + \quad 326 \\ \hline \\ \hline \end{array}$$

$$\begin{array}{r} 9) \quad \quad 253 \\ + \quad 129 \\ \hline \\ \hline \end{array}$$

$$\begin{array}{r} 10) \quad \quad 438 \\ + \quad 217 \\ \hline \\ \hline \end{array}$$

$$\begin{array}{r} 11) \quad \quad 326 \\ + \quad 108 \\ \hline \\ \hline \end{array}$$

$$\begin{array}{r} 12) \quad \quad 352 \\ + \quad 236 \\ \hline \\ \hline \end{array}$$

$$\begin{array}{r} 13) \quad \quad 163 \\ + \quad 118 \\ \hline \\ \hline \end{array}$$

$$\begin{array}{r} 14) \quad \quad 528 \\ + \quad 66 \\ \hline \\ \hline \end{array}$$

$$\begin{array}{r} 15) \quad \quad 426 \\ + \quad 57 \\ \hline \\ \hline \end{array}$$

$$\begin{array}{r} 16) \quad \quad 315 \\ + \quad 229 \\ \hline \\ \hline \end{array}$$

$$\begin{array}{r} 17) \quad \quad 608 \\ + \quad 172 \\ \hline \\ \hline \end{array}$$

$$\begin{array}{r} 18) \quad \quad 179 \\ + \quad 518 \\ \hline \\ \hline \end{array}$$

$$\begin{array}{r} 19) \quad \quad 342 \\ + \quad 156 \\ \hline \\ \hline \end{array}$$

$$\begin{array}{r} 20) \quad \quad 537 \\ + \quad 248 \\ \hline \\ \hline \end{array}$$

Subject: Mathematics

Worksheet-2

Solve the following questions:

1) $41 + \square = 69$

2) $70 + \square = 72$

3) $22 + \square = 62$

4) $27 + \square = 35$

5) $09 + \square = 31$

6) $30 + \square = 64$

7) $00 + \square = 19$

8) $35 + \square = 63$

9) $17 + \square = 23$

10) $22 + \square = 46$

11) $10 + \square = 13$

12) $50 + \square = 24$

13) $00 + \square = 35$

14) $48 + \square = 49$

15) $52 + \square = 58$

16) $29 + \square = 29$

17) $30 + \square = 51$

18) $70 + \square = 84$

19) $21 + \square = 27$

20) $52 + \square = 80$

Subject: Mathematics

Worksheet-3

Q1. Solve the sums of subtraction.

$$\begin{array}{r} 1) \quad 372 \\ - 155 \\ \hline \end{array}$$

$$\begin{array}{r} 2) \quad 550 \\ - 235 \\ \hline \end{array}$$

$$\begin{array}{r} 3) \quad 674 \\ - 556 \\ \hline \end{array}$$

$$\begin{array}{r} 4) \quad 720 \\ - 106 \\ \hline \end{array}$$

$$\begin{array}{r} 5) \quad 526 \\ - 118 \\ \hline \end{array}$$

$$\begin{array}{r} 6) \quad 682 \\ - 436 \\ \hline \end{array}$$

$$\begin{array}{r} 7) \quad 546 \\ - 329 \\ \hline \end{array}$$

$$\begin{array}{r} 8) \quad 953 \\ - 615 \\ \hline \end{array}$$

$$\begin{array}{r} 9) \quad 470 \\ - 243 \\ \hline \end{array}$$

$$\begin{array}{r} 10) \quad 892 \\ - 67 \\ \hline \end{array}$$

$$\begin{array}{r} 11) \quad 546 \\ - 418 \\ \hline \end{array}$$

$$\begin{array}{r} 12) \quad 781 \\ - 145 \\ \hline \end{array}$$

$$\begin{array}{r} 13) \quad 763 \\ - 728 \\ \hline \end{array}$$

$$\begin{array}{r} 14) \quad 635 \\ - 526 \\ \hline \end{array}$$

$$\begin{array}{r} 15) \quad 860 \\ - 53 \\ \hline \end{array}$$

$$\begin{array}{r} 16) \quad 952 \\ - 317 \\ \hline \end{array}$$

$$\begin{array}{r} 17) \quad 552 \\ - 128 \\ \hline \end{array}$$

$$\begin{array}{r} 18) \quad 276 \\ - 239 \\ \hline \end{array}$$

$$\begin{array}{r} 19) \quad 865 \\ - 407 \\ \hline \end{array}$$

$$\begin{array}{r} 20) \quad 726 \\ - 518 \\ \hline \end{array}$$

$$\begin{array}{r} 21) \quad 960 \\ - 647 \\ \hline \end{array}$$

$$\begin{array}{r} 22) \quad 632 \\ - 226 \\ \hline \end{array}$$

$$\begin{array}{r} 23) \quad 784 \\ - 65 \\ \hline \end{array}$$

$$\begin{array}{r} 24) \quad 853 \\ - 235 \\ \hline \end{array}$$

Subject: Mathematics
Worksheet-4

Q1. Solve the sums of subtraction.



$\begin{array}{r} 21 \\ - 20 \\ \hline \end{array}$	$\begin{array}{r} 18 \\ - 11 \\ \hline \end{array}$	$\begin{array}{r} 47 \\ - 16 \\ \hline \end{array}$	$\begin{array}{r} 71 \\ - 50 \\ \hline \end{array}$	$\begin{array}{r} 86 \\ - 63 \\ \hline \end{array}$	$\begin{array}{r} 89 \\ - 38 \\ \hline \end{array}$	$\begin{array}{r} 46 \\ - 33 \\ \hline \end{array}$
---	---	---	---	---	---	---

$\begin{array}{r} 74 \\ - 38 \\ \hline \end{array}$	$\begin{array}{r} 31 \\ - 26 \\ \hline \end{array}$	$\begin{array}{r} 50 \\ - 19 \\ \hline \end{array}$	$\begin{array}{r} 59 \\ - 41 \\ \hline \end{array}$	$\begin{array}{r} 57 \\ - 23 \\ \hline \end{array}$	$\begin{array}{r} 75 \\ - 17 \\ \hline \end{array}$	$\begin{array}{r} 17 \\ - 10 \\ \hline \end{array}$
---	---	---	---	---	---	---

$\begin{array}{r} 14 \\ - 12 \\ \hline \end{array}$	$\begin{array}{r} 19 \\ - 17 \\ \hline \end{array}$	$\begin{array}{r} 72 \\ - 17 \\ \hline \end{array}$	$\begin{array}{r} 72 \\ - 23 \\ \hline \end{array}$	$\begin{array}{r} 83 \\ - 34 \\ \hline \end{array}$	$\begin{array}{r} 50 \\ - 50 \\ \hline \end{array}$	$\begin{array}{r} 93 \\ - 73 \\ \hline \end{array}$
---	---	---	---	---	---	---

$\begin{array}{r} 42 \\ - 30 \\ \hline \end{array}$	$\begin{array}{r} 78 \\ - 24 \\ \hline \end{array}$	$\begin{array}{r} 68 \\ - 19 \\ \hline \end{array}$	$\begin{array}{r} 14 \\ - 14 \\ \hline \end{array}$	$\begin{array}{r} 34 \\ - 24 \\ \hline \end{array}$	$\begin{array}{r} 94 \\ - 34 \\ \hline \end{array}$	$\begin{array}{r} 58 \\ - 16 \\ \hline \end{array}$
---	---	---	---	---	---	---

$\begin{array}{r} 15 \\ - 14 \\ \hline \end{array}$	$\begin{array}{r} 99 \\ - 30 \\ \hline \end{array}$	$\begin{array}{r} 33 \\ - 29 \\ \hline \end{array}$	$\begin{array}{r} 33 \\ - 13 \\ \hline \end{array}$	$\begin{array}{r} 41 \\ - 19 \\ \hline \end{array}$	$\begin{array}{r} 99 \\ - 92 \\ \hline \end{array}$	$\begin{array}{r} 40 \\ - 26 \\ \hline \end{array}$
---	---	---	---	---	---	---

$\begin{array}{r} 51 \\ - 12 \\ \hline \end{array}$	$\begin{array}{r} 67 \\ - 17 \\ \hline \end{array}$	$\begin{array}{r} 76 \\ - 58 \\ \hline \end{array}$	$\begin{array}{r} 92 \\ - 50 \\ \hline \end{array}$	$\begin{array}{r} 18 \\ - 17 \\ \hline \end{array}$	$\begin{array}{r} 63 \\ - 17 \\ \hline \end{array}$	$\begin{array}{r} 26 \\ - 17 \\ \hline \end{array}$
---	---	---	---	---	---	---

$\begin{array}{r} 43 \\ - 34 \\ \hline \end{array}$	$\begin{array}{r} 76 \\ - 50 \\ \hline \end{array}$	$\begin{array}{r} 85 \\ - 85 \\ \hline \end{array}$	$\begin{array}{r} 87 \\ - 73 \\ \hline \end{array}$	$\begin{array}{r} 75 \\ - 66 \\ \hline \end{array}$	$\begin{array}{r} 18 \\ - 14 \\ \hline \end{array}$	$\begin{array}{r} 23 \\ - 22 \\ \hline \end{array}$
---	---	---	---	---	---	---

Subject: Mathematics
Worksheet-5

Multiplication: Single Digit Multiplier

1)
$$\begin{array}{r} 253 \\ \times 6 \\ \hline \end{array}$$

2)
$$\begin{array}{r} 633 \\ \times 2 \\ \hline \end{array}$$

3)
$$\begin{array}{r} 104 \\ \times 9 \\ \hline \end{array}$$

4)
$$\begin{array}{r} 815 \\ \times 3 \\ \hline \end{array}$$

5)
$$\begin{array}{r} 863 \\ \times 7 \\ \hline \end{array}$$

6)
$$\begin{array}{r} 398 \\ \times 5 \\ \hline \end{array}$$

7)
$$\begin{array}{r} 207 \\ \times 5 \\ \hline \end{array}$$

8)
$$\begin{array}{r} 750 \\ \times 7 \\ \hline \end{array}$$

9)
$$\begin{array}{r} 813 \\ \times 1 \\ \hline \end{array}$$

10)
$$\begin{array}{r} 858 \\ \times 6 \\ \hline \end{array}$$

11)
$$\begin{array}{r} 660 \\ \times 2 \\ \hline \end{array}$$

12)
$$\begin{array}{r} 481 \\ \times 9 \\ \hline \end{array}$$

13)
$$\begin{array}{r} 225 \\ \times 6 \\ \hline \end{array}$$

14)
$$\begin{array}{r} 215 \\ \times 4 \\ \hline \end{array}$$

15)
$$\begin{array}{r} 465 \\ \times 2 \\ \hline \end{array}$$

16)
$$\begin{array}{r} 918 \\ \times 8 \\ \hline \end{array}$$

17)
$$\begin{array}{r} 878 \\ \times 4 \\ \hline \end{array}$$

18)
$$\begin{array}{r} 467 \\ \times 9 \\ \hline \end{array}$$

19)
$$\begin{array}{r} 511 \\ \times 3 \\ \hline \end{array}$$

20)
$$\begin{array}{r} 340 \\ \times 5 \\ \hline \end{array}$$

Subject: Mathematics
Worksheet-6

Two Digit Multiplication

Name Date.....

$\begin{array}{r} 18 \\ \times 12 \\ \hline \end{array}$	$\begin{array}{r} 43 \\ \times 24 \\ \hline \end{array}$	$\begin{array}{r} 45 \\ \times 24 \\ \hline \end{array}$	$\begin{array}{r} 75 \\ \times 24 \\ \hline \end{array}$
$\begin{array}{r} 65 \\ \times 24 \\ \hline \end{array}$	$\begin{array}{r} 43 \\ \times 24 \\ \hline \end{array}$	$\begin{array}{r} .45 \\ \times 24 \\ \hline \end{array}$	$\begin{array}{r} 75 \\ \times 24 \\ \hline \end{array}$
$\begin{array}{r} 65 \\ \times 24 \\ \hline \end{array}$	$\begin{array}{r} 43 \\ \times 24 \\ \hline \end{array}$	$\begin{array}{r} 45 \\ \times 24 \\ \hline \end{array}$	$\begin{array}{r} 75 \\ \times 24 \\ \hline \end{array}$
$\begin{array}{r} 65 \\ \times 24 \\ \hline \end{array}$	$\begin{array}{r} 43 \\ \times 24 \\ \hline \end{array}$	$\begin{array}{r} 45 \\ \times 24 \\ \hline \end{array}$	$\begin{array}{r} 75 \\ \times 24 \\ \hline \end{array}$
$\begin{array}{r} 65 \\ \times 24 \\ \hline \end{array}$	$\begin{array}{r} 43 \\ \times 24 \\ \hline \end{array}$	$\begin{array}{r} 45 \\ \times 24 \\ \hline \end{array}$	$\begin{array}{r} 75 \\ \times 24 \\ \hline \end{array}$

Subject: English
Worksheet-1

Q1. Circle the adjectives in the following sentences.

a) The knife is sharp.



b) The sky is blue.



c) The clown looks funny.

d) His shoes are stinky.




e) Cow is a useful animal.




f) It is a spooky castle.

g) Have you seen my new bag ?



h) What a horrible place!

i) The family had a large pizza.



j) ^{*}Soloman was a wise king.

k) Dry leaves fell from the trees.

l) ^{**}A hungry fox came and picked a piece of bread.



Subject: English
Worksheet-2

Q4. Change the underlined genders.

(1) There is my brother.

(2) The girl wants to be a actress.

(3) My aunt takes care of the cow.

(4) The king adopted a boy.

(5) The lion killed a man.

(6) The teacher gave the women some good advices.

Subject: English
Worksheet-3

Q5. Observe the picture and frame sentences.



1. _____
2. _____
3. _____
4. _____
5. _____
6. _____

Subject: English
Worksheet-5

Q7. Look at the picture carefully and fill the correct preposition by using given hints.

in	behind	beside	under	on	between	in front of
----	--------	--------	-------	----	---------	-------------



1. The dog is _____ the bed.
2. The bed is _____ study table and a drawer.
3. The lamp is _____ the study table.
4. The books are _____ the yellow box.
5. The cat is _____ the computer.
6. The boxes are _____ the bed.
7. The study table is _____ the bed.

Subject: English
Worksheet-6

Q8. Tick the correct preposition and strike off the wrong

a) The toys are in
the box.



The toys are on
the box.

b) There is a vase
above the table.




There is a vase
on the table.

c) The kitten is on
the bed.



The kitten is
below the bed.

d) The bee is between
two flowers.




The bee is in the
flowers.

e) The aeroplane is
above the house.



The aeroplane is
on the house.

f) The ant is at the
leaf.



The ant is near
the leaf.



THANK YOU

BIRLA PUBLIC SCHOOL GANVAVAGAR